




# Figury geometryczne



1. Która figura jest kwadratem? Zaznacz odpowiedni kwadrat pod rysunkiem.



2. Która figura jest kołem? Zaznacz odpowiedni kwadrat pod rysunkiem.



3. Która figura jest trójkątem? Zaznacz odpowiedni kwadrat pod rysunkiem.



4. Która figura jest prostokątem? Zaznacz odpowiedni kwadrat pod rysunkiem.

